

Werkblad: Stripanalyse - Wat klopt hier niet?

Hieronder zie je vier losse scènes uit een stripverhaal over het leven van een prehistorisch gezin. Het gaat hierbij om een uitgestorven menssoort: de Neanderthaler. Elke scène bevat een fout: iets wat niet klopt met de tijd van het Belvédère-mes (250.000 jaar geleden). Je gaat per scène uitzoeken wat het *anachronisme* is, waarom het niet klopt, en hoe het wel zou moeten.

Opdracht

1. Beschrijf per stripvakje wat je ziet.
2. Benoem het anachronisme (de fout).
3. Leg uit waarom het niet klopt met de prehistorie/leven van de Neanderthalers.
4. Herschrijf de scène zoals het historisch wel correct zou zijn.


Scène 1

Wat zie je? _____

Wat klopt er niet? _____

Waarom klopt dit niet met het leven van Neanderthalers? _____

Hoe zou deze scène er wél uitzien? _____



Wilbrink (2025). ChatGPT (versie 4o). [Generatieve AI].


Scène 2

Wat zie je? _____

Wat klopt er niet? _____

Waarom klopt dit niet met het leven van Neanderthalers? _____

Hoe zou deze scène er wél uitzien? _____



Wilbrink (2025). ChatGPT (versie 4o). [Generatieve AI].

Scène 3

Wat zie je? _____

Wat klopt er niet? _____

Waarom klopt dit niet met het leven van Neanderthalers? _____

Hoe zou deze scène er wél uitzien? _____



Wilbrink (2025). ChatGPT (versie 4o). [Generatieve AI].


Scène 4

Wat zie je? _____

Wat klopt er niet? _____

Waarom klopt dit niet met het leven van Neanderthalers? _____

Hoe zou deze scène er wél uitzien? _____



Wilbrink (2025). ChatGPT (versie 4o). [Generatieve AI].

Reflectie

Wat heb je geleerd over anachronismen (foute weergave van de tijd) in geschiedenis?

Waarom is het belangrijk om kritisch naar beelden te kijken?